




Carnet des Gardiens du Temps

Ta mission : restaurer l'équilibre du temps

Nom et Prénom du Gardien du Temps :



- Ma mission -

Bienvenue, Gardien du Temps ! Depuis que l'Horloge du Temps s'est brisée, la nature est en déséquilibre. Certaines zones sont figées, d'autres accélérées. Ta mission est de récupérer les fragments de l'horloge ainsi que le diamant bleu et de résoudre des énigmes pour rétablir l'équilibre naturel.

Au fil de ta journée, tu noteras tes découvertes, résoudras des défis et collecteras des indices. Bonne chance, Gardien !

- Mon objectif -

Coche au fur et à mesure que tu les trouves !

<input type="checkbox"/>	FRAGMENT 1
<input type="checkbox"/>	FRAGMENT 2
<input type="checkbox"/>	FRAGMENT 3
<input type="checkbox"/>	FRAGMENT 4
<input type="checkbox"/>	DIAMANT BLEU

- Fragment 1 -

Le chemin du Temps

Le vivant

Entoure les dessins qui représentent des êtres vivants et complète les mots



MOU_TTE



RE_ARD



RO__T



MA_GUER_TE



CON_ERV_



AR_RE



CO_UELI_OT



CAI__OUX



N_AG_



PA_ILLO_



_OIT_RE



B_L_ON



PO_S_ON



C_AMPI_NON



COC_INE_LE



H_RISSO_

Entoure les 4 mots (les verbes) qui définissent TOUS les êtres vivants.

Se nourrir



Se déplacer



Parler



Grandir



Jouer



Aller aux toilettes



Mourir



Entendre



Voler



Se reproduire



Aimer



Sentir



- Fragment 1 -

Le chemin du Temps



Hiver



Printemps



Été



Automne

Observe autour de toi, en quelle saison sommes-nous ? Entoure l'arbre correspondant.

- Fragment 2 -

La forêt figée

Trouve le code !

Pars à la recherche des symboles cachés dans les arbres !

Les 4 symboles suivants sont répartis sur les plateformes des pistes castors, verte, jaune et au début de la piste bleue. A toi de les trouver.



Un coffre, qui se trouve au niveau de l'accueil du parc, est fermé par un cadenas à chiffres. A l'intérieur, un fragment d'horloge s'y cache peut-être.

- Fragment 3 -

Le labyrinthe du temps

Suis le parcours et réponds aux questions pour trouver le bon chemin !

- Enigme 1 -

Voici des êtres vivants. Fais une croix sur l'intrus qui ne vit pas dans la forêt.

Chevreuril



Papillon



Ecureuil



Hibou



Crabe



Escargot



Coccinelle



Sanglier



Renard



Pic



Quel animal ne vit pas dans la forêt ?

Combien de lettres composent le nom de ce dernier ?

- Enigme 2 -

Prends ta longue-vue et cherche autour de toi la silhouette du Pic Épeiche.

Voici la silhouette à trouver. Sur cette silhouette, la route à suivre.



- Fragment 3 -

Le labyrinthe du temps

Suis le parcours et réponds aux questions pour trouver le bon chemin !

- Enigme 3 -

Indique où vit et se nourrit chacun des animaux ci-dessous.

Un intrus s'est caché parmi les animaux. Le numéro de ce dernier t'indiquera le chemin à suivre.



1




2



3



4




- Fragment 3 -

Le labyrinthe du temps

Suis le parcours et réponds aux questions pour trouver le bon chemin !

- Enigme 4 -

De la graine à l'arbre, classe les images dans le bon ordre (de 1 à 6)



A quelle étape le gland du chêne disparaît ?



- Fragment 3 -

Le labyrinthe du temps

Suis le parcours et réponds aux questions pour trouver le bon chemin !

- Enigme 5 -



= 7 ans



Quel âge a l'arbre ci-dessus ?

Age =

Ajoute 2 pour connaître le chemin à suivre.

Age + 2 =





- Fragment 3 -

Le labyrinthe du temps

Suis le parcours et réponds aux questions pour trouver le bon chemin !

- Enigme 6 -

Retrouve le cycle de vie d'un papillon en suivant les additions donnant le nombre 12. Suis la flèche pour commencer.

 <p>Œuf</p>	$8 + 4$	$5 + 7$	$5 + 3 + 5$
$7 + 3$	$6 + 7$	$10 + 2$	$11 + 2$
$3 + 9$	$11 + 1$	 <p>Chenille</p>	$12 + 4$
$6 + 6$	$6 + 5$	$2 + 9$	$6 + 4 + 3$
 <p>Chrysalide</p>	$6 + 3 + 3$	$5 + 1 + 6$	 <p>Papillon</p>

Le chemin de vie du papillon forme un chiffre. Celui-ci te donne la route à suivre. Quel est ce chiffre ?

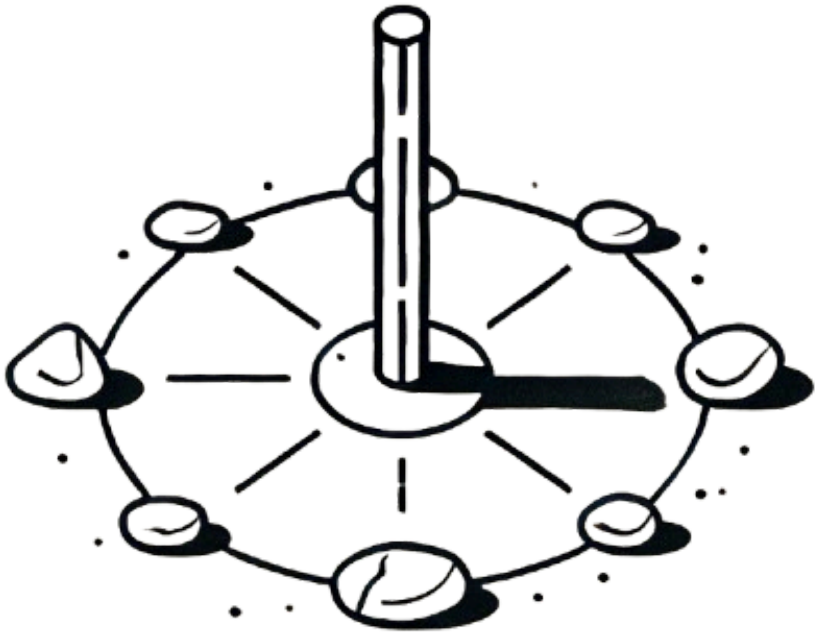


- Pause créative -

Atelier cadran solaire

Construis ton propre cadran solaire !

Voici à quoi ressemble un cadran solaire :



A toi de jouer, utilise des éléments naturels pour construire et décorer ton cadran solaire !

- Fragment 4 -

L'eau en mouvement

La formation d'un nuage

Entoure les 4 ingrédients nécessaires pour créer ton nuage.



Soleil



Ballon



Voiture



Poussière



Table



Eau




Vent frais

La couleur des nuages

Voici deux nuages : un gris et un blanc.

Trace un rayon de soleil allant du soleil jusqu'à l'enfant en prenant le chemin le plus court possible.

Attention, tu peux passer à travers le nuage mais il est interdit de toucher les gouttes d'eau.



- Fragment 4 -

L'eau en mouvement

L'évapotranspiration, késako ?

Comme toi quand il fait chaud, les arbres transpirent.

Toi tu transpires principalement sous les bras, les arbres eux transpirent par les feuilles. Cette transpiration va s'évaporer et former les nuages.



Le cycle de l'eau



- Cérémonie de clôture -


Bravo Gardien du Temps !

Félicitations ! Grâce à tes efforts, l'Horloge du Temps est restaurée et la nature reprend son équilibre. Tu es désormais un véritable Gardien du Temps.


Fais un dessin pour décrire ta journée !

- Tampon de Gardien du Temps -

- Espace ludique -



- Espace ludique -



- Espace ludique -

Cherche et trouve les parties coupées de l'image



- Espace ludique -

Retrouve les 5 différences entre les deux dessins de Basil





Merci à toi
Gardien du
Temps !

